

OFICIAL DE SERVIÇOS GERAIS

28/08/2016

**SÓ ABRA ESTE CADERNO QUANDO FOR AUTORIZADO
LEIA ATENTAMENTE AS INSTRUÇÕES**

1. Quando for permitido abrir o caderno, verifique se ele está completo ou se apresenta imperfeições gráficas que possam gerar dúvidas. Se houver algum defeito dessa natureza, peça ao aplicador de prova para entregar-lhe outro exemplar.
2. Este caderno contém 30 questões objetivas. Cada questão apresenta quatro alternativas de resposta, das quais apenas uma é a correta. Preencha no cartão-resposta a letra correspondente à resposta assinalada na prova.
3. O cartão-resposta é personalizado e não será substituído, em caso de erro durante o seu preenchimento. Ao recebê-lo, verifique se seus dados estão impressos corretamente; se for constatado algum erro, notifique-o ao aplicador de prova.
4. No cartão-resposta, as respostas devem ser marcadas com caneta esferográfica de tinta PRETA OU AZUL, preenchendo-se integralmente o alvéolo, rigorosamente dentro dos seus limites e sem rasuras.
5. Esta prova tem a duração de **quatro horas**, incluindo o tempo destinado à coleta de impressão digital, às instruções e à transcrição para o cartão-resposta.
6. Você só poderá retirar-se definitivamente da sala e do prédio após decorridas **duas horas** de prova, e somente será permitido levar o caderno de prova a partir das **11 horas**, desde que permaneça na sala até esse horário.
7. Quando apenas três candidatos permanecerem na sala para terminar a prova, estes deverão aguardar até que o último a entregue, e terão seus nomes registrados em Relatório de Sala, no qual aporão suas respectivas assinaturas.
8. **AO TERMINAR, DEVOLVA O CARTÃO-RESPOSTA AO APLICADOR DE PROVA.**

Leia o **Texto 1** para responder às questões de **01 a 05**.

Texto 1

Isabel e o Lobisomem

1 Certo dia, Nossa Senhora deu uma cachorrinha a uma
2 mulher chamada Isabel e disse a ela que aquela cachor-
3 ra seria sua companhia para lhe proteger de todo perigo
4 e que não deveria se separar dela. Elas viveram muitos
5 anos juntas, até que um dia Isabel conheceu um rapaz
6 muito bonito e jeitoso. Logo ela começou a gostar dele,
7 então o convidou para ir passear em sua casa. Ele acei-
8 tou e eles combinaram de se encontrar à noite. Isabel,
9 por sua vez, ficou toda ansiosa para receber aquele ra-
10 paz bonito e misterioso. Ao cair a noite, ela se arrumou
11 para esperá-lo e quando estava perto de ele chegar ela
12 adormeceu. Nisso, ele chegou, chamou, chamou na por-
13 ta, mas ela estava dormindo e sua cachorrinha não dei-
14 xou ele entrar. Ela latiu assim: *Zabé tá dormindo, Zabé*
15 *tá sonhando, bicho feroz qué ti comê!* Isso repetiu-se vá-
16 rias vezes. Quando eles se encontravam, ela lhe pergun-
17 tava por que ele não tinha ido a sua casa. Então, ele res-
18 ponia que tinha ido sim, e que era sua cachorrinha que
19 não tinha deixado ele entrar. Então, ela resolveu matar a
20 cachorra, e disse: *Agora, você pode me visitar que ela*
21 *não vai mais te latir.* Assim ele fez, mas mesmo morta a
22 cachorrinha ainda latiu: *Zabé tá dormindo, Zabé tá so-*
23 *nhando, bicho feroz qué ti comê!* No outro dia, ela per-
24 guntou por que ele não a tinha visitado, então, ele res-
25 pondeu que tinha ido, sim, porém, a cachorra o latiu. Ela
26 pegou a cachorra, queimou e jogou as cinzas na água, e
27 disse-lhe: *Hoje, você pode me visitar.* Então, ele foi, che-
28 gou, ela estava acordada, chamou, ela abriu a porta.
29 Quando ela viu, ele era um lobisomem, que a matou e
30 comeu!

COSTA, S. A. S. *Narrativas Tradicionais do Povo Tapuia*. Goiânia: CEGRAF, 2014.

— QUESTÃO 01 —

O motivo de Isabel ser presenteada com uma cachorra foi para garantir-lhe a

- (A) felicidade.
- (B) segurança.
- (C) tranquilidade.
- (D) confiança.

— QUESTÃO 02 —

O encantamento pela beleza do rapaz misterioso levou Isabel à

- (A) desobediência.
- (B) infelicidade.
- (C) infidelidade.
- (D) descrença.

— QUESTÃO 03 —

O texto apresenta características de narrativas, dentre as quais a característica que o tipifica como lenda é a

- (A) forma de introdução da história.
- (B) estrutura de progressão do texto.
- (C) estratégia de organização textual.
- (D) humanização de seres não humanos.

— QUESTÃO 04 —

O emprego de crase em “à noite”, na linha 8, deve-se à

- (A) fusão de artigo mais preposição a diante de um substantivo, formando uma locução.
- (B) exigência de acentuação gráfica, antecedida de substantivo.
- (C) presença da tonicidade recaída em palavra paroxítona.
- (D) marcação de acento agudo diante de ditongo crescente.

— QUESTÃO 05 —

A expressão “Ao cair a noite”, na linha 10 do texto, é o mesmo que:

- (A) madrugada.
- (B) alvorecer.
- (C) fim de tarde.
- (D) aurora.

Leia o **Texto 2** para responder às questões de **06 a 08**.

Texto 2

A Chocolate Publicidade

1 No mercado desde 2007, a Chocolate Publicidade
2 vem com uma proposta inovadora no segmento
3 de comunicação visual, projetos gráficos, design digi-
4 tal e campanhas de marketing. Crescendo a cada dia
5 no mercado, a Chocolate preza pela qualidade desde
6 o atendimento até a entrega do job. Conheça a Cho-
7 colate Publicidade, você se surpreenderá com a nos-
8 sa "Doce arte de comunicar!"

Disponível em: <<http://www.chocolatepublicidade.com>>. Acesso em: 15 maio 2016.

— QUESTÃO 06 —

O objetivo da peça publicitária é:

- (A) agradar a equipe interna.
- (B) compor um texto elegante.
- (C) vender seus produtos.
- (D) obter elogios.

— QUESTÃO 07 —

No trecho "a Chocolate preza pela qualidade desde o atendimento até a entrega do job", nas linhas 5 e 6 do texto, o termo *preza* tem o sentido de

- (A) julga.
- (B) ajuiza.
- (C) valida.
- (D) zela.

— QUESTÃO 08 —

A expressão "Doce arte de comunicar!", na última linha do texto, indica:

- (A) retratos da imaginação.
- (B) uso figurado da linguagem.
- (C) comunicação infantil.
- (D) descrição objetiva do real.

Leia o **Texto 3** para responder às questões **09 e 10**.

Texto 3



Disponível em: <<http://www.chocolatepublicidade.com>>. Acesso em: 15 maio 2016.

— QUESTÃO 09 —

A expressão "preço de banana", no Texto 3, é o mesmo que preço

- (A) superfaturado.
- (B) extraordinário.
- (C) muito baixo.
- (D) abusivo.

— QUESTÃO 10 —

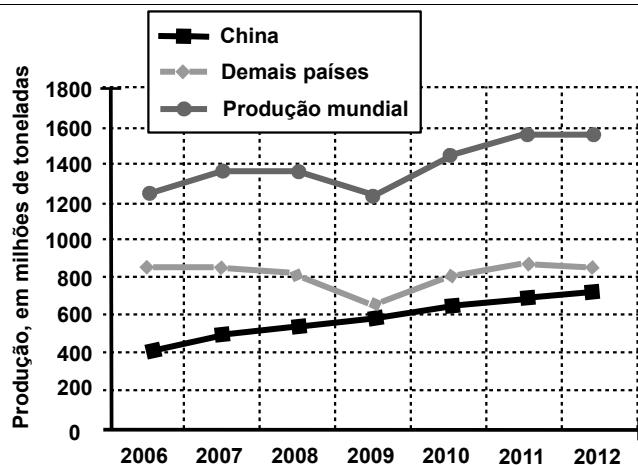
O recurso empregado na figuração da linguagem, no Texto 3, é:

- (A) metonímia.
- (B) hipérbole.
- (C) aliteração.
- (D) comparação.

— QUESTÃO 11 —

Analise o gráfico a seguir.

Produção mundial de aço bruto, em milhões de toneladas, do ano de 2006 a 2012.



CAMPOS, Vanderlei. Fornos desativados. *Carta Capital*. 16 mar. 2016. p. 46. (Adaptado).

Considerando as informações do gráfico, a produção chinesa foi, aproximadamente,

- (A) o dobro da produção dos demais países, em 2006.
- (B) um quinto da produção dos demais países, em 2008.
- (C) um quarto da produção mundial, em 2011.
- (D) a metade da produção mundial, em 2009.

— QUESTÃO 12 —

Leia o texto a seguir.

Segundo levantamento do Conselho Federal de Medicina, dos R\$ 47,3 bilhões de reais gastos com investimentos pelo Governo Federal em 2013, o Ministério da Saúde recebeu 3,784 bilhões de reais.

Disponível em: <<http://portal.cfm.org.br/index.php>>. Acesso em: 23 maio 2016. (Adaptado).

Ao anotar o valor recebido pelo Ministério da Saúde, uma pessoa trocou, por engano, a ordem na qual os algarismos 8 e 4 estavam escritos e escreveu R\$ 3,748. Essa anotação representa, em relação ao valor original,

- (A) um aumento de 36 milhões.
- (B) uma diminuição de 36 milhões.
- (C) um aumento de 3,6 milhões.
- (D) uma diminuição de 3,6 milhões.

— QUESTÃO 13 —

A tabela a seguir mostra o coeficiente de incidência da tuberculose em alguns estados do Brasil, em 2013.

Estado	Coeficiente de incidência
Acre	41,61
Alagoas	32,02
Espírito Santo	31,15
Maranhão	29,82
Rondônia	32,20
Roraima	29,28

BOLETIM EPIDEMIOLÓGICO, v. 44, n. 02, 2104. Disponível em: <<http://www.funed.mg.gov.br>>. Acesso em: 23 maio 2016. (Adaptado).


Ordenando os estados em ordem crescente de coeficiente de incidência, obtém-se a sequência:

- (A) Roraima, Maranhão, Espírito Santo, Alagoas, Rondônia e Acre.
- (B) Acre, Rondônia, Alagoas, Espírito Santo, Maranhão e Roraima.
- (C) Maranhão, Roraima, Alagoas, Rondônia, Acre e Espírito Santo.
- (D) Rondônia, Acre, Roraima, Espírito Santo, Maranhão e Alagoas.

— RASCUNHO —

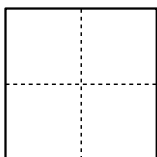
— QUESTÃO 14 —

Um garoto comeu uma parte de uma barra de chocolate retangular e colocou sobre a mesa o que sobrou da barra, conforme a figura a seguir.




Sabendo que essa sobra representa $\frac{2}{3}$ da barra de chocolate, qual das figuras a seguir representa a barra inteira?


(A)




(B)



(C)



(D)

**— QUESTÃO 15 —**

A figura a seguir é de uma embalagem, tradicionalmente usada, para transportar pizza.



O contorno da tampa ou do fundo dessa caixa tem o formato de um polígono cujo nome é:

- (A) pentágono.
- (B) octógono.
- (C) hexágono.
- (D) dodecágono.

— QUESTÃO 16 —

No envelope utilizado para depósito em dinheiro, no caixa eletrônico de um banco, encontra-se a seguinte instrução:

Coloque, no máximo, 30 cédulas no envelope.
Não coloque moedas ou cheques.

Considerando que as cédulas disponíveis são as de R\$ 2,00, R\$ 5,00, R\$ 10,00, R\$ 20,00, R\$ 50,00 e R\$ 100,00 e obedecendo às instruções contidas no envelope, para qual das quantias a seguir sempre será necessário utilizar mais de um envelope para o depósito?

- (A) R\$ 2 855,00
- (B) R\$ 2 804,00
- (C) R\$ 2 795,00
- (D) R\$ 2 656,00

— QUESTÃO 17 —

O painel de uma agência de serviços ao cidadão indica que o tempo de espera para ser atendido é de 1h24 minutos. Um cidadão chega à agência e entra na fila para ser atendido. Enquanto esperava, estimou que o atendimento de cada pessoa durava sete minutos. Considerando essa estimativa, a quantidade de pessoas que estavam à sua frente, quando ele entrou na fila, era:

- (A) 18
- (B) 16
- (C) 14
- (D) 12

— QUESTÃO 18 —

Em uma lanchonete, o sanduíche custa R\$ 12,75, o refrigerante, R\$ 4,50 e uma porção de batata custa R\$ 5,20. Porém, caso o cliente opte por comprar o “combo”, ou seja, comprar os três produtos juntos, ele economizará R\$ 1,76. Nestas condições, o “combo” custa, em reais,

- (A) 20,69
- (B) 21,31
- (C) 22,45
- (D) 24,21

— QUESTÃO 19 —

Uma praça tem o formato de um retângulo com dimensões de 120 m por 40 m. Uma pessoa, andando em volta dessa praça, percorre 80 m do seu perímetro. Nessas condições, qual é a fração do perímetro da praça que a pessoa percorreu?

- (A) $\frac{1}{4}$
- (B) $\frac{1}{60}$
- (C) $\frac{1}{2}$
- (D) $\frac{1}{80}$

— QUESTÃO 20 —

Leia o texto a seguir.

Entre parques temáticos, aquáticos e parques com animais, a cidade de Orlando e seu entorno, localizada no estado norte-americano da Flórida, somam 15 atrações. No ano de 2015, passaram pela cidade 60% dos 105 milhões de pessoas que visitaram a Flórida.

SAILE, Belinda. De Miami a la luna. *El País*. 12 maio 2016. (Adaptado).

De acordo com essas informações, a quantidade de pessoas que visitaram Orlando, em 2015, foi de:

- (A) 630 000
- (B) 6 300 000
- (C) 63 000 000
- (D) 630 000 000

— RASCUNHO —

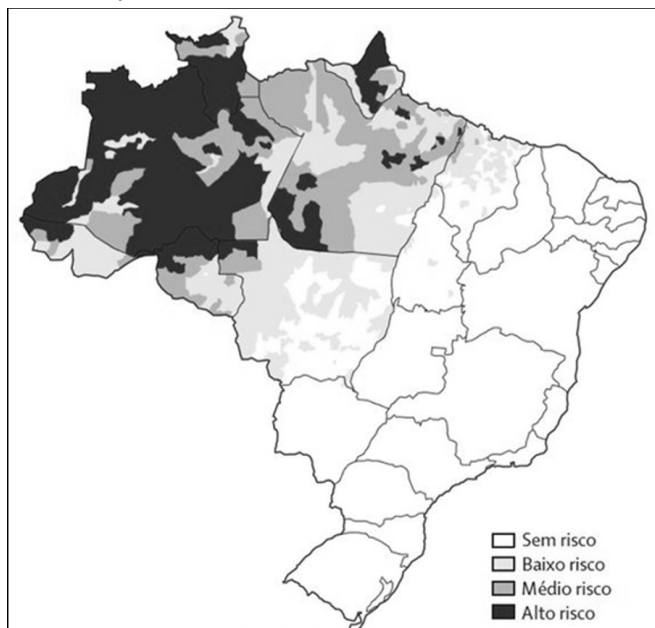
— QUESTÃO 21 —

As fontes de energia são importantes recursos para os processos de produção na sociedade. Dentre elas, aquela que gera a maior parte da energia elétrica do Brasil é a fonte

- (A) eólica.
- (B) térmica.
- (C) hidráulica.
- (D) solar.

— QUESTÃO 22 —

Observe a figura a seguir, que mostra as áreas no Brasil com risco de transmissão de uma doença conhecida também como paludismo.



Disponível em: <www.portalsaude.saude.gov.br>. Acesso em: 20 maio 2016.

Esta doença concentra-se principalmente na Amazônia Legal e é chamada de

- (A) dengue.
- (B) Chagas.
- (C) malária.
- (D) hanseníase.

— QUESTÃO 23 —

Goiás é dividido, de acordo com o Instituto Brasileiro de Geografia e Estatística (IBGE), em cinco mesorregiões e dezoito microrregiões. O município de Caldas Novas está localizado na microrregião do

- (A) Sudeste de Goiás.
- (B) Meia Ponte.
- (C) Vão do Paranã.
- (D) Vale do Rio dos Bois.

— QUESTÃO 24 —

Como relevante via de transporte, as rodovias permitem a circulação de bens, produtos e pessoas. A rodovia federal BR-153, importante via que interliga Goiás a outros estados do país, passa por municípios goianos, dentre eles,

- (A) Luziânia e Rio Verde.
- (B) Jataí e Iporá.
- (C) Catalão e Silvânia.
- (D) Itumbiara e Morrinhos.

— QUESTÃO 25 —

Algumas cidades goianas surgiram a partir de arraiais. As fazendas, a ferrovia e as estradas também influenciaram o nascimento de muitas cidades no estado de Goiás. À medida que novos núcleos urbanos surgiram, os municípios mais antigos se fragmentaram. Quando emancipado, o município de Caldas Novas foi desmembrado do município de

- (A) Pires do Rio.
- (B) Morrinhos.
- (C) Itumbiara.
- (D) Catalão.

— QUESTÃO 26 —

Nas décadas de 1910 e 1920, Goiás registrou aumento nas exportações de café e arroz. Naquele período, o transporte desses produtos até São Paulo era realizado principalmente por meio de

- (A) trem.
- (B) caminhão.
- (C) embarcação.
- (D) carroça.

— QUESTÃO 27 —

Observe a figura a seguir que mostra a área brasileira ocupada pelo Cerrado.



Disponível em: <www.noveste.com>. Acesso em: 20 maio 2016.

Este bioma, conforme mostra a figura, é o segundo maior do Brasil e abrange vários estados. Dentre eles, encontram-se:

- (A) Rio Grande do Sul e Maranhão.
- (B) Paraíba e Acre.
- (C) Sergipe e São Paulo.
- (D) Goiás e Mato Grosso do Sul.

— QUESTÃO 28 —

Os rios Araguaia, Tocantins e Paranaíba formam as principais bacias hidrográficas do estado de Goiás. Além dessas bacias, algumas áreas pertencem à bacia do rio São Francisco. Os córregos, ribeirões e rios que passam pelo município de Caldas Novas pertencem à bacia do rio

- (A) Araguaia.
- (B) Tocantins.
- (C) Paranaíba.
- (D) São Francisco.

— QUESTÃO 29 —

Goiânia é uma cidade que foi planejada para ser capital de Goiás. Antes dela, a capital do estado era a Cidade de Goiás. A construção e a transferência da capital para Goiânia ocorreram na década de

- (A) 1920.
- (B) 1930.
- (C) 1940.
- (D) 1950.

— QUESTÃO 30 —

No Censo de 2010 do Instituto Brasileiro de Geografia e Estatística (IBGE), a população do estado de Goiás ultrapassou a marca de seis milhões de habitantes. A distribuição da população varia muito entre os municípios goianos. Há aqueles, por exemplo, que ultrapassam a marca de cinquenta mil habitantes, tais como

- (A) Caldas Novas e Catalão.
- (B) Anápolis e Pires do Rio.
- (C) Ceres e Cristianópolis.
- (D) Bela Vista de Goiás e Ipameri.