



HISTÓRIA

Questão 01

... os fatos na antiguidade foram muito próximos de como os descrevi, não dando muito crédito, de um lado, às versões que os poetas cantaram, adornando e amplificando seus temas, e de outro considerando que os logógrafos [primeiros escritores gregos] compuseram as suas obras mais com a intenção de agradar os ouvidos que de dizer a verdade (...) deve-se olhar os fatos como estabelecidos com precisão suficiente, à base de informações mais nítidas.

Tucídides I, 21. *História da Guerra do Peloponeso*. Brasília: Ed. da UnB, 1999. p. 25.

O desenvolvimento do pensamento filosófico e o nascimento da História (a investigação que localiza as “informações mais nítidas”), como atividade que distingue mito e verdade, foram concomitantes ao nascimento da *polis* e conheceram um período de florescência no denominado “Século de Péricles”.

Discorra sobre os aspectos culturais e políticos desse período da história da Grécia Antiga.

Questão 02

A casa de Deus, que cremos ser uma, está, pois, dividida em três: uns oram, outros combatem, e outros, enfim, trabalham.

Bispo Adalbéron de Laon, século XVI, apud Jacques Le Goff. *A Civilização do Ocidente Medieval*. Lisboa: Editorial Estampa, 1984, v.II. p. 45-6.

Caracterize a sociedade feudal, destacando a relação entre os que “combatem” (nobreza) e os que “trabalham” (servos).

Questão 03

Sob o domínio dos Tudor (1485-1603), o absolutismo inglês firmou-se, principalmente, durante o reinado de Elizabeth I (1558-1603). Com a ascensão dos Stuarts, inicia-se um período de tensão que desencadeou uma fase revolucionária, em muitos aspectos, típica dos conflitos políticos da modernidade.

Acerca da Revolução Puritana (1649-1660), responda:

- Qual a liderança que organizou o exército puritano na luta contra o Absolutismo?
- Identifique os aspectos políticos e sociais da Revolução Puritana.

Questão 04

Algumas obras históricas e literárias resistem ao tempo. São obras que designamos como clássicas. Serão lidas infinitamente e, de tão discutidas, incorporam-se à própria realidade que foi objeto de estudo. *Casa-Grande & Senzala*, obra de Gilberto Freyre, escrita em 1933, carrega esta marca. Freyre, ao caracterizar a civilização brasileira, rompeu com a visão tradicional acerca das relações entre raça e sociedade, redefinindo a posição do negro na formação nacional.

De que forma a mestiçagem, como elemento formador da nacionalidade brasileira, era percebida no século XIX e no início do século XX?

Questão 05

(...) Em silêncio, sem uma palma, sem um assobio, o carro avançou entre os espectadores daquela cena histórica. A noite vinha descendo sobre o eclipse da autoridade constitucional, que desaparecia, entretanto, com a majestade que lhe souberam dar a altivez e a bravura de seu último presidente.

O trecho acima foi retirado do livro *A Verdade sobre a Revolução de Outubro*, escrito pelo jornalista Barbosa Lima Sobrinho, que descreve a deposição do presidente Washington Luís (1926-1930). O processo sucessório foi marcado pela polarização política e acabou encerrando uma etapa do regime republicano, conhecida como República Velha.

Identifique as correntes políticas em conflito no processo sucessório e analise a ação dos tenentes no Governo Provisório (1930-34).

Questão 06

“Julgamos propícia esta ocasião para afirmar como um princípio que afeta os direitos e interesses dos Estados Unidos: que os continentes americanos, em virtude da condição livre e independente que adquiriram e conservam, não podem mais ser considerados, no futuro, como suscetíveis de colonização por nenhuma potência européia (...)”

A citação acima contém o argumento que orientou a política estadunidense em relação ao continente americano, em meados do século XIX.

- Como ficou conhecida a doutrina derivada da declaração acima?
- Destaque os principais elementos da referida doutrina.

Questão 07

Entre a Declaração Truman (1947) e o desmantelamento do regime socialista na URSS (1991), o mundo viveu sob o signo da Guerra Fria. Numa avaliação posterior, a Guerra Fria surge como uma “paz regulada”, que propiciava, em última instância, o equilíbrio. Assim sendo, era positiva para as potências, pois estas não precisavam assumir um confronto direto; antes, o evitavam. Mas está claro que a Guerra Fria gerou, para os que a vivenciaram, a sensação de ameaça real e constante.

Com base nessas informações, analise os desdobramentos da Revolução Cubana (1959) *no contexto da Guerra Fria*.

Questão 08

A descolonização – processo que fez desmoronar o poder colonial europeu nas áreas da Ásia e África – tomou forte impulso após a Segunda Guerra Mundial. Entretanto, há um histórico de resistência que possibilitou às regiões dominadas encaminharem a luta anti-imperialista, cujas lideranças adotaram estratégias diferenciadas. Considere especialmente o caso indiano para responder às seguintes questões:

- Nomeie a(s) principal(is) liderança(s) do movimento nacionalista.
- Aponte e analise as estratégias assumidas pelo movimento nacionalista indiano para libertar o país do domínio inglês.

GEOGRAFIA

Questão 09

Leia a tira abaixo.



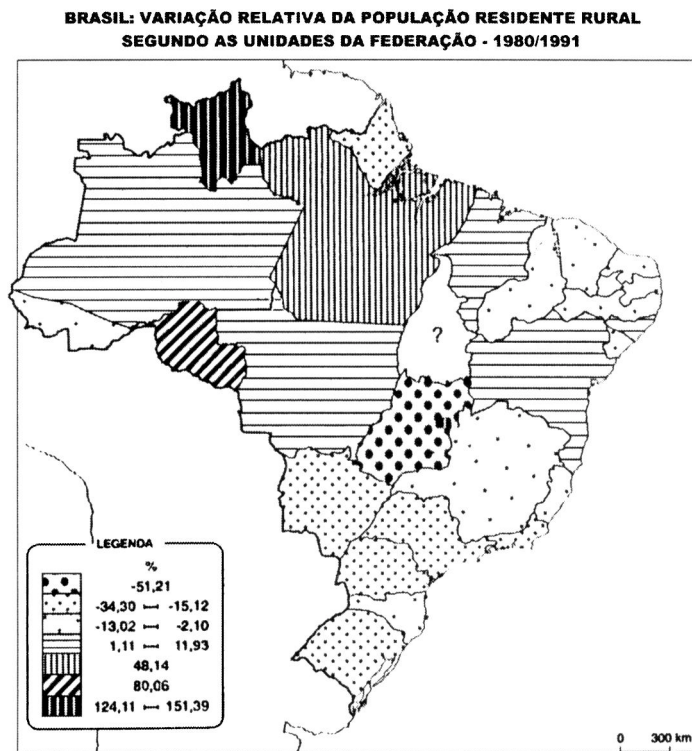
QUINO. *Toda Mafalda*. São Paulo: Martins Fontes, 1993. p.385.

Na tira, a personagem critica o uso ideológico que pode ser feito de uma representação cartográfica. Considerando o conteúdo da tira e os conhecimentos sobre o assunto,

- a) explique a visão de mundo que predomina nessa forma de representação dos hemisférios nos mapas, criticada por Liberdade;
- b) como a escala, na representação cartográfica, pode direcionar o grau de aprofundamento em uma análise geográfica?

Questão 10

O Brasil é um país onde as migrações internas ocorreram – e ainda ocorrem – com certa frequência. Com base nos conhecimentos sobre o assunto e na leitura do mapa abaixo, faça o que se pede.



Fonte: IBGE (1993)

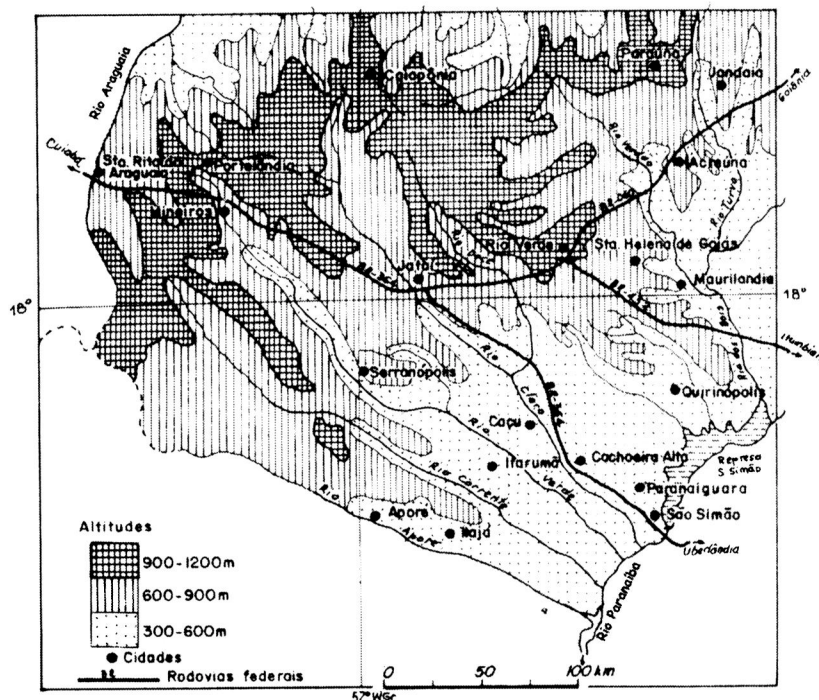
Retirado de Marcelo Martinelli. *Gráficos e mapas: construa-os você mesmo*. São Paulo: Moderna, 1999. p.107.

- a) Cite um fator que esteja relacionado com a variação populacional no Centro-Sul do País.
- b) Quais são os Estados da Região Nordeste onde houve acréscimo da população rural?

Questão 11

No Sudoeste de Goiás, uma das regiões mais importantes do território goiano, predominam extensos planaltos elaborados em litologias arenítico-basálticas da Bacia Sedimentar do Paraná.

SUDOESTE GOIANO HIDROGRAFIA, RELEVO, CIDADES



Considerando o quadro natural da região e sua incorporação às atividades produtivas, responda:

- Para quais grandes bacias hidrográficas o relevo cuestasiforme, conhecido regionalmente como Serra do Caiapó, é um divisor de águas?
- Como o atual uso da terra se relaciona às formações geológicas e ao relevo da região?

Questão 12

A língua portuguesa é falada atualmente por cerca de 182 milhões de pessoas, em países como Angola, Brasil, Cabo Verde (na costa do Senegal), Guiné Bissau, Moçambique, Portugal, São Tomé e Príncipe (no Golfo da Guiné), Timor Leste e localidades, como Goa, Diu e Damão (na Índia) e Macau (na China).

Considerando a difusão desse idioma pelo mundo, por meio da colonização européia, faça o que se pede.

- Relacione 4 desses países e/ou localidades aos seus respectivos continentes.
- Cite duas características (sociais, políticas e/ou econômicas) comuns a dois deles.

Questão 13

Em 1798, Thomas Malthus publicou seu famoso *Ensaio sobre o princípio da população*, um trabalho que, pela primeira vez, focalizava os problemas de suprimento de alimentos, relacionando-os com o aumento populacional. Com base nesse ensaio, os estudos de demografia passaram a enfatizar o crescimento populacional em relação à demanda de alimentos, à produção agrícola e ao fenômeno da fome.

- Qual é a concepção malthusiana sobre a relação entre o crescimento populacional e a demanda de alimentos?
- Por que a teoria malthusiana, atualmente, é insuficiente para explicar a relação entre aumento populacional e produção agrícola?

Questão 14

No século XX, o principal marco de referência no que diz respeito à integração econômica e comercial da América Latina é a proposta formulada, em 1958, pela Comissão Econômica para a América Latina (Cepal).

COELHO, Marcos de A. *Geografia do Brasil*. 4.ed. São Paulo: Moderna, 1996. p.48.

Apesar do esforço da Cepal em lançar as bases para a criação de um mercado regional latino-americano, a integração entre os países da América Latina ainda não se efetivou.

Cite dois motivos que explicam por que o nível de integração regional é baixo.

Questão 15

China e Taiwan constituem um dos focos de tensão no espaço geopolítico do mundo atual. Recentemente, por ocasião das eleições presidenciais em Taiwan, houve momentos de ameaça à ilha pelo governo chinês.

A propósito da relação entre os dois países asiáticos, responda:

- Qual é a posição geopolítica de Taiwan no mundo multipolar dos anos 1990?
- Indique o motivo pelo qual a China tem ameaçado Taiwan.

Questão 16

Em várias cidades do Brasil, um problema ambiental muito sério tem sido a ocorrência freqüente de enchentes nos períodos de chuvas prolongadas, gerando enormes prejuízos sociais e econômicos.

Com relação a esse problema ambiental – *as enchentes* –, faça o que se pede:

- Dê um exemplo de alteração do meio físico urbano, provocado pela ação antrópica que esteja diretamente relacionado ao fenômeno das enchentes.
- Aponte um problema oriundo do modo de vida adotado pela sociedade de consumo, que seja também uma das causas das enchentes.

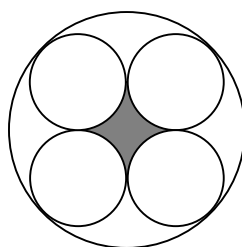


Questão 17

Roberto gosta de fazer caminhada em uma pista próxima a sua casa. Ao longo da pista existem uma lanchonete, um posto médico e uma banca de revistas. Fazendo o mesmo caminho diariamente, Roberto constatou que, da lanchonete à banca de revistas, passando pelo posto médico, caminhou 1.000 passos. Do posto médico à lanchonete, passando pela banca de revistas, caminhou 800 passos e da banca de revistas ao posto médico, passando pela lanchonete, caminhou 700 passos. Considerando que cada um dos passos de Roberto mede 80 cm, qual é o comprimento da pista?

Questão 18

Considere uma circunferência de raio R e quatro circunferências de raio r , todas tangentes entre si, conforme a figura abaixo.



- Obtenha uma expressão que relacione os raios r e R .
- Para $R = 2$ cm, calcule o valor da área sombreada na figura.

Questão 19

Dados os pontos A , B e D no plano cartesiano, com coordenadas $(1,1)$, $(4,-1)$ e $(-2,0)$, respectivamente, determine as coordenadas de um ponto C , de modo que o quadrilátero $ABCD$ seja um trapézio.

Questão 20

O sr. Manoel contratou um advogado para receber uma dívida, cujo valor era de R\$ 10.000,00. Por meio de um acordo com o devedor, o advogado conseguiu receber 90% do total da dívida. Supondo que o sr. Manoel pagou ao advogado 15% do total recebido, quanto de dinheiro lhe restou?

Questão 21

O norte-americano Maurice Greene venceu a prova de 100 metros rasos na Olimpíada de Sydney, com o tempo de 9 segundos e 87 centésimos. Calcule a sua velocidade média em quilômetros por hora.

Questão 22

Analise o seguinte texto e responda às perguntas abaixo.

Pela primeira vez, o número de mulheres conectadas [à Internet] ultrapassou o de homens nos Estados Unidos. Elas representam [em maio de 2000] 50,4% dos internautas. (...) De maio de 1999 a maio de 2000, a presença delas aumentou 34,9%, enquanto o número [total] de usuários da internet cresceu 22,4%.

Veja. 23 ago. 2000. p. 84.

- Qual era o percentual de mulheres entre os usuários da Internet, em maio de 1999?
- No período considerado, de maio de 1999 a maio de 2000, qual foi o percentual de crescimento do número de usuários masculinos, na Internet?

 Rascunho
